




Тест для учащихся 5 классов

1.	<b>В каких местах пешеходу запрещено переходить через дорогу?</b>  1. На крутых поворотах. 2. В местах, где дорога идет на подъем. 3. Около туннелей и мостов. 4. Во всех перечисленных местах.	
2.	<b>Что обозначает этот знак?</b>  1. Обозначает место для детских игр. 2. Жилая зона. У пешеходов преимущество в движении, но лишь после того, как они убедятся в том, что не создают помех транспорту. 3. Указывает место для стоянки автомобилей.	 A blue square traffic sign with white symbols. At the top left is a car icon, at the top right is a window icon, at the bottom left is a walking person icon, and at the bottom right is a child playing with a ball icon.
3.	<b>Разрешается ли велосипедисту пересекать проезжую часть по пешеходному переходу, не слезая с велосипеда?</b>  1. Разрешается, если на проезжей части нет транспорта. 2. Разрешается, если убедиться, что весь транспорт остановился. 3. Запрещается.	
4.	<b>Как перейти через дорогу на противоположную сторону при выходе из автобуса? (возможно несколько вариантов)</b>  1. Перед автобусом. 2. Сзади автобуса. 3. Выбрать место для перехода: пешеходный переход или перекресток. 4. Дождаться, когда автобус отъедет от	

	остановки.	
5.	<p><b>Что обозначает этот знак?</b></p> <ol style="list-style-type: none"> <li>1. Пешеходный переход на расстоянии 50 – 150 метров.</li> <li>2. Дети.</li> <li>3. Переход дороги запрещен.</li> </ol>	
6.	<p><b>Найди и запиши, под какой цифрой изображен знак, соответствующий значению «движение на велосипедах запрещено».</b></p>	<ol style="list-style-type: none"> <li>1. </li> <li>2. </li> <li>3. </li> </ol>
7.	<p><b>Как перейти проезжую часть дороги, если рядом нет пешеходного перехода?</b></p> <ol style="list-style-type: none"> <li>1. Пропустить транспорт, движущийся слева, дойти до середины; затем закончить переход, при отсутствии транспорта справа.</li> <li>2. Необходимо выбрать для перехода участок дороги, просматриваемый в обе стороны</li> </ol>	

	<p>хорошо, и только после этого убедиться в отсутствии транспорта или достаточного удаления его от места перехода.</p> <p>3. Переход запрещен, нужно дойти до ближайшего пешеходного перехода или перекрестка.</p>	
8.	<p><b>Выбери цифру с правильным окончанием предложения: «Управлять велосипедом при движении по дорогам разрешается...»</b></p> <p>1. «... лицам не моложе 16 лет»;</p> <p>2. «... лицам не моложе 12 лет»;</p> <p>3. «... лицам не моложе 14 лет»</p>	
9.	<p><b>Как вести себя при переходе дороги на регулируемом перекрестке в ненастную погоду?</b></p> <p>1. Воздержаться от перехода до окончания дождя или снегопада.</p> <p>2. Быть особенно внимательным, при переходе на зеленый сигнал светофора, если на улице сыро или скользко, автомобиль не может резко остановиться, даже если водитель сразу нажмет на тормоз.</p> <p>3. Дождаться зеленого сигнала светофора и, не обращая внимание на погоду, перейти проезжую часть.</p>	
10.	<p><b>Как должен перевозиться ребенок в возрасте 10 лет в салоне транспортного средства?</b></p> <p>1. Только пристегнувшись ремнями безопасности.</p> <p>2. На переднем сиденье – в детском удерживающем устройстве, соответствующем росту и весу ребенка, а на заднем сиденье – с</p>	

	<p>использованием детского удерживающего устройства или штатного ремня безопасности автомобиля.</p>	
--	---	--

3. Только в детском удерживающем устройстве, соответствующем его росту и весу.