









Тест для учащихся 7 классов

<p>1.</p>	<p>Что обозначает этот знак?</p> <p>1. Жилая зона. У пешеходов преимущество в движении, но лишь после того, как они убедятся в том, что не создают помех транспорту.</p> <p>2. Обозначает место для детских игр, можно играть во дворовых проездах, но не создавая помех транспорту.</p> <p>3. Указывает место для стоянки автомобилей.</p>	
<p>2.</p>	<p>В каком месте пешеходам разрешается пересекать проезжую часть при отсутствии пешеходного перехода?</p> <p>1. На участках, где она хорошо просматривается в обе стороны (при отсутствии в зоне видимости перехода или перекрестка), под прямым углом к краю проезжей части.</p> <p>2. На перекрестках по линии тротуаров или обочин.</p> <p>3. Во всех перечисленных местах.</p>	
<p>3.</p>	<p>Как должен вести себя велосипедист, собирающийся пересечь дорогу по пешеходному переходу?</p> <p>1. Остановиться, повернуть голову налево и направо, убедиться, что водители всех автомобилей пропускают, продолжить движение на велосипеде.</p> <p>2. Остановиться, слезть с велосипеда, повернуть голову налево и направо, убедиться, что водители всех автомобилей пропускают, перейти дорогу пешком, ведя</p>	

	<p>велосипед рядом с собой.</p> <p>3. Подъехать к пешеходному переходу и продолжить движение без остановки, так как на пешеходном переходе все водители его должны пропустить.</p>	
4.	<p>Как должен перевозиться ребенок в возрасте 13 лет в салоне транспортного средства?</p> <p>1. На переднем или заднем пассажирском сиденье, пристегнувшись только ремнями безопасности.</p> <p>2. На переднем сиденье – в детском удерживающем устройстве, соответствующем росту и весу ребенка, а на заднем сиденье – с использованием детского удерживающего устройства или штатного ремня безопасности автомобиля.</p> <p>3. Только в детском удерживающем устройстве, соответствующем его росту и весу.</p>	
5.	<p>Соотнесите названия знаков с их изображением (правильные ответы запишите парами, например 1+4):</p> <p>1. Велосипедная дорожка</p> <p>2. Движение на велосипеде запрещено</p> <p>3. Пересечение с велосипедной дорожкой</p>	<p>4. </p> <p>5. </p> <p>6. </p>

6.	<p>Что обозначает этот знак?</p> <p>1. Дети. 2. Переход дороги запрещен 3. Пешеходный переход на расстоянии от 50 до 150 метров.</p>	
7.	<p>Найди и запиши, под какой цифрой изображен знак, соответствующий значению «движение на велосипедах запрещено».</p>	<p>1. </p> <p>2. </p> <p>3. </p>
8.	<p>Что должен сделать пешеход, если видит, что к пешеходному переходу приближается автомобиль «скорой помощи» с включенным звуковым спец. сигналом и проблесковым маячком синего цвета?</p> <p>1. Пропустить спец. автомобиль (воздержаться от перехода). 2. Переходить дорогу, т. к. пешеход на «зебре» имеет преимущество.</p>	

	<p>3. Убедиться, что спец. автомобиль и другой транспорт уступают дорогу пешеходу, и только после этого начинать переход.</p>	
9.	<p>Выбери цифру с правильным окончанием предложения: «Управлять мопедом (мокиком, скутером) при движении по дорогам разрешается...»</p> <p>1. «... лицам не моложе 18 лет при наличии водительского удостоверения категории «М»;</p> <p>2. «... лицам не моложе 16 лет при наличии водительского удостоверения категории «М»;</p> <p>3. «... лицам не моложе 14 лет при наличии водительского удостоверения категории «М».</p>	
10.	<p>Как перейти через дорогу на противоположную сторону при выходе из автобуса? (возможно несколько вариантов)</p> <p>1. Перед автобусом.</p> <p>2. Сзади автобуса.</p> <p>3. Выбрать место для перехода: пешеходный переход или перекресток.</p> <p>4. Дождаться, когда автобус отъедет от остановки.</p> <p>5. Верны все четыре варианта ответа.</p>	